

De wereld, verdeeld in werelddelen

De wereldkaart - de wereldzeeën

Ons product. Zoek op:

In welk werelddeel ligt het land van ons product?	Europa
Wordt dit werelddeel omringd door zeeën? Zo ja, welke?	* Oostzee - Noordzee - Middelhandse Zee * Atlantische Oceaan
Grenst het werelddeel aan nog andere werelddelen?	Azië

De werelddelen op kaart.

Knipblad.

1. Kleef de verschillende werelddelen op de juiste plaats op de wereldkaart.
2. Schrijf nu met pen de 3 wereldzeeën op de juiste plaats:
Grote of Stille Oceaan – Atlantische Oceaan – Indische Oceaan
(let op de hoofdletters!)

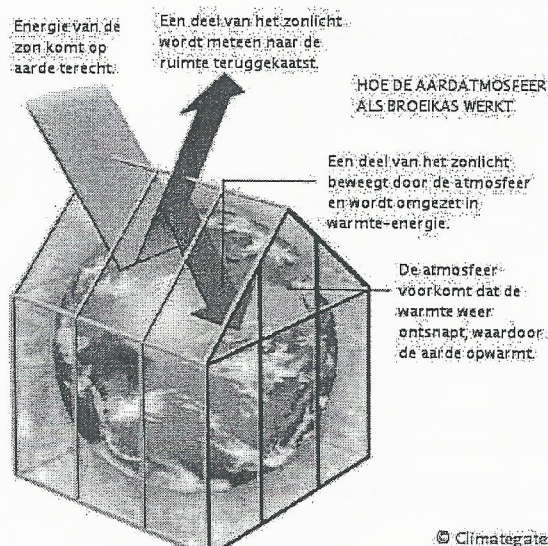


... de aarde uit ruim **70% water** bestaat en slechts **30% land**. Daardoor ziet de aarde er vanuit de ruimte blauw uit.

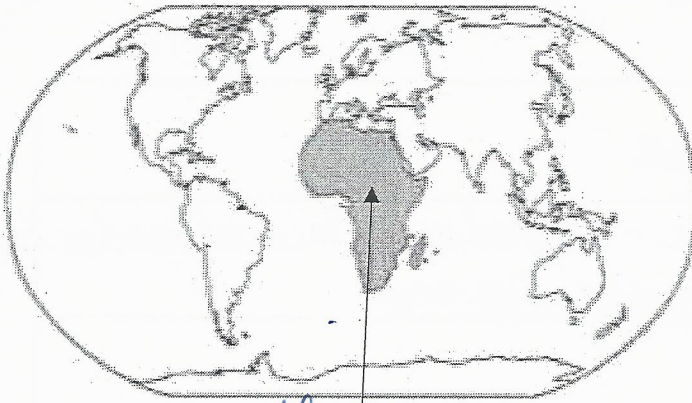
... de aarde **niet helemaal bolvormig** is. Hij is afgeplat aan de polen.

... de aarde de enige plek in het zonnestelsel is waarvan we zeker weten dat er **leven** is.

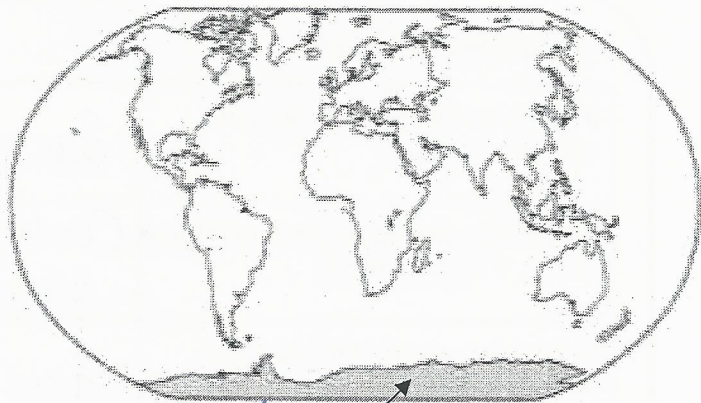
... de aarde een **dampkring** rond zich heeft die leven hier mogelijk maakt. De dampkring werkt als een serre (**broeikas**) en houdt de warmte vast en beschermt ons tegen schadelijke straling van de zon.



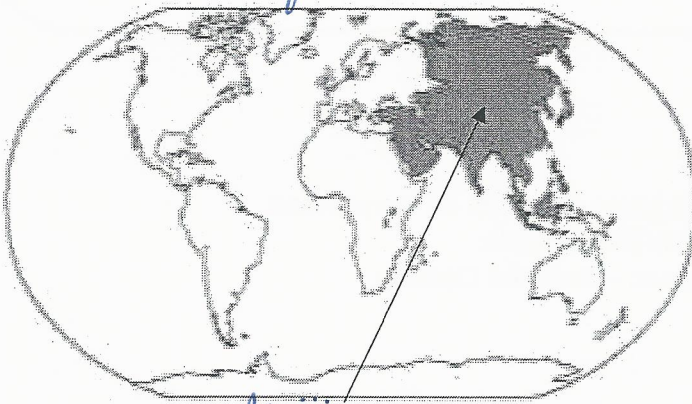
Welk werelddeel wordt er aangeduid? Schrijf het er telkens onder.
Let op: Werelddelen schrijf je met een hoofdletter.



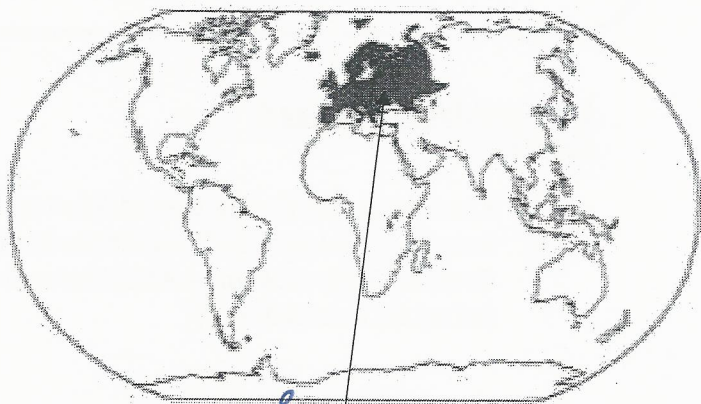
Afrika



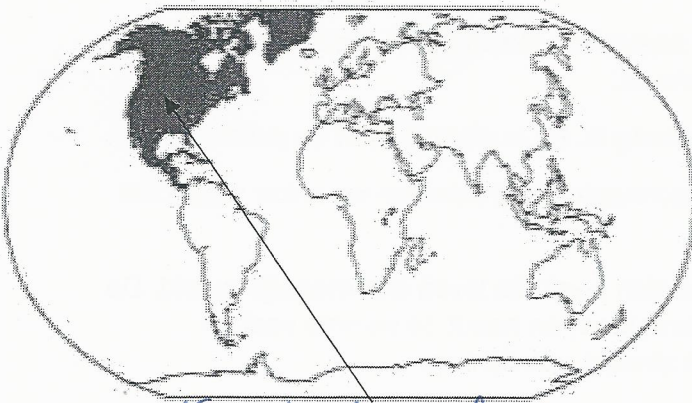
Antarctica



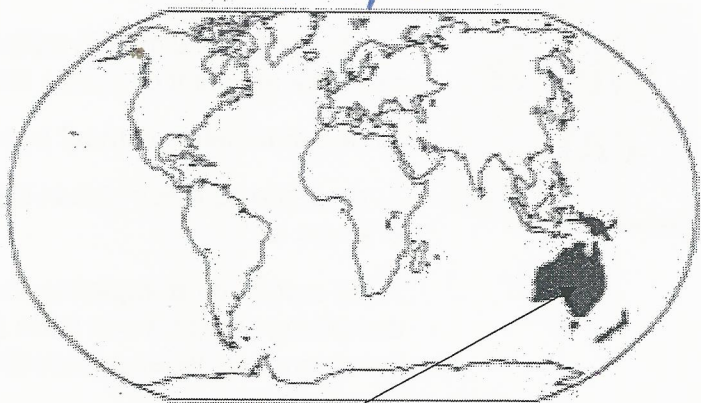
Asie



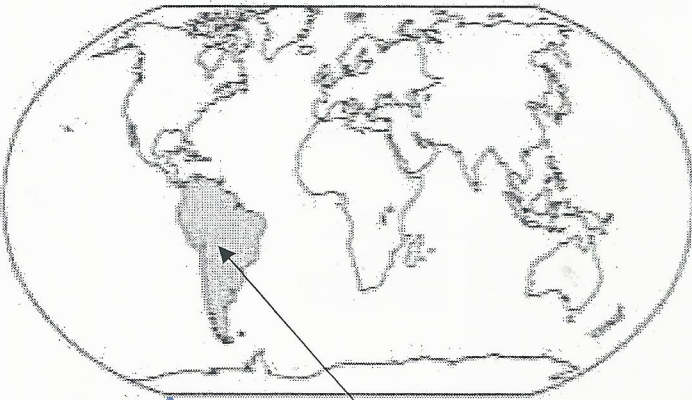
Europa



Noord-Amerika



Oceanië



Zuid-Amerika

